

計算力・思考力検定試験 第12回 10級問題

もんだい1

つぎの けいさんを しましょう。

① $2 + 5 =$

② $6 + 1 =$

③ $4 + 8 =$

④ $5 + 5 =$

⑤ $3 + 2 =$

⑥ $8 + 7 =$

⑦ $2 + 9 =$

⑧ $7 + 0 =$

⑨ $9 + 4 =$

⑩ $6 + 9 =$

もんだい2

つぎの けいさんを しましょう。

① $9 - 4 =$

② $5 - 4 =$

③ $9 - 8 =$

④ $8 - 6 =$

⑤ $18 - 8 =$

⑥ $10 - 5 =$

⑦ $11 - 2 =$

⑧ $8 - 8 =$

⑨ $6 - 0 =$

⑩ $14 - 9 =$

もんだい 3

つぎの けいさんを しましょう。

① $4 + 5 + 3 =$

② $7 - 3 + 6 =$

③ $9 - 1 - 8 =$

④ $3 + 6 + 5 =$

⑤ $8 + 3 - 4 =$

もんだい 4

□にはいる かずを かきましょう。

① $\square + 7 = 15$

② $12 - \square = 3$

③ $4 - 3 + \square = 2$

もんだい 5

つぎの もんだいに こたえましょう。


① かきが 5つ、みかんが 7つあります。かきと みかんを 1つずつ たべたら、のこりは みかんと かきをあわせて いくつありますか。

② にわに すずめが 3わ います。6わ ふえましたが、7わ へりました。のこりは なん わですか。

もんだい6

つぎの もんだいに こたえましょう。

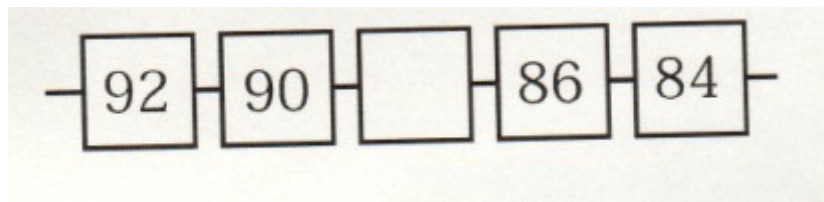
① なんまい ありますか。



② 30より 7ちいさいかずは いくつでしょう。

③ □に はいる かずは いくつでしょう。

□にかきましょう。



④ おおきい じゅんに かずを かきましょう。

46、81、59

⑤ こたえが 8になる かあどに まるをつけましょう。


れい

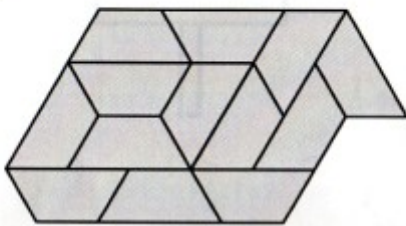
$6 + 2$ $10 - 5$ $6 + 5$ $12 - 4$


$7 + 2$ $13 - 6$

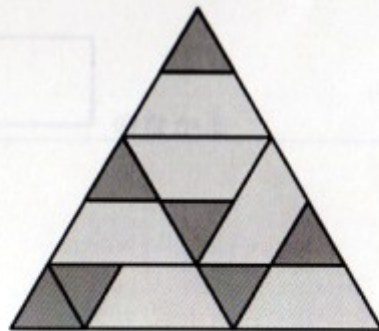
$4 + 4$ $16 - 7$ $8 + 0$

もんだい 7

① したの (ず) は  の いたを なんまい
つかって できていますか。
(ず)


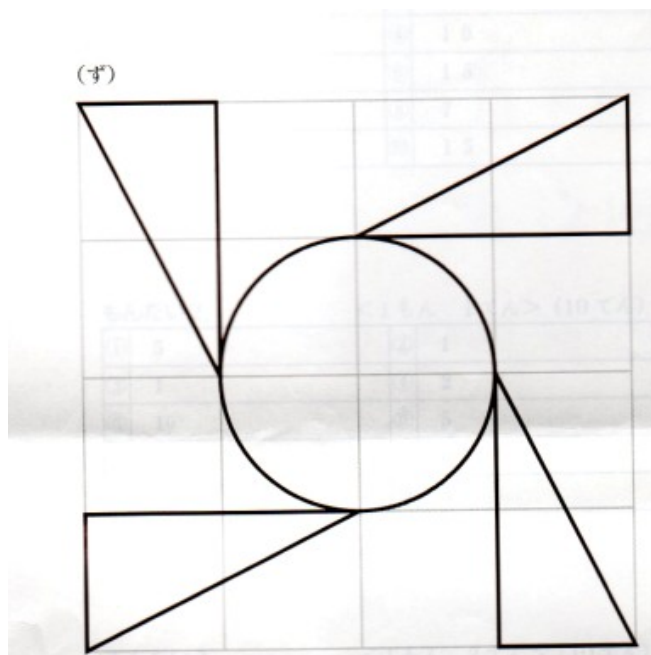


② したの (ず) は  と  の
いたを なんまい ずつ つかって できていますか。
(ず)



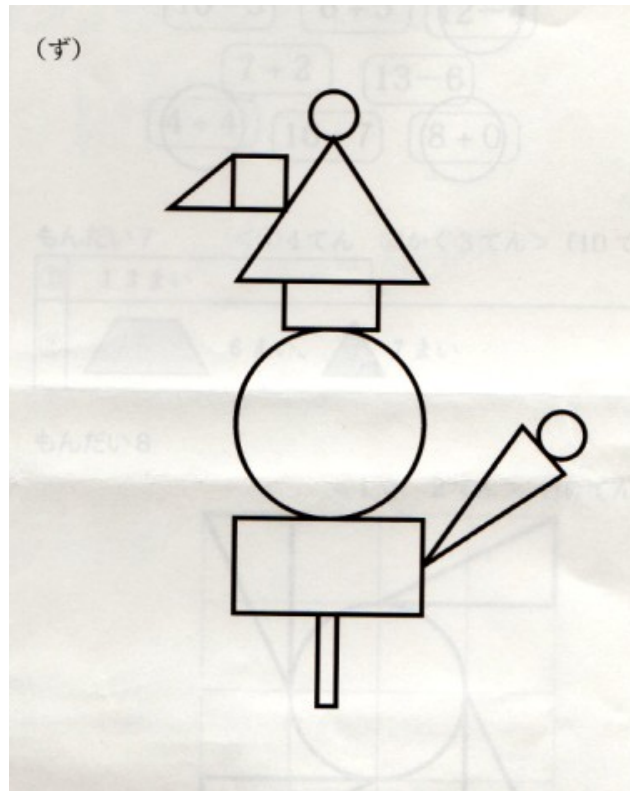
もんだい 8

したの(ず)と おなじ ずけいを (かいとうらん)にかきましょう。
かく ばしょにも ちゅうい しましょう。




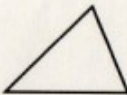
もんだい9


したの(ず)につかわれている かたちを 3しゅるいの なかまに わけましょう。
おなじ かたちの なかまは それぞれ いくつでしょう。



(こたえ)

 のなかま _____ こ

 のなかま _____ こ

 のなかま _____ こ

解答

もんだい 1

- | | |
|-------|-------|
| ① 7 | ② 7 |
| ③ 1 2 | ④ 1 0 |
| ⑤ 5 | ⑥ 1 5 |
| ⑦ 1 1 | ⑧ 7 |
| ⑨ 1 3 | ⑩ 1 5 |

もんだい 2

- | | |
|-------|-----|
| ① 5 | ② 1 |
| ③ 1 | ④ 2 |
| ⑤ 1 0 | ⑥ 5 |
| ⑦ 9 | ⑧ 0 |
| ⑨ 6 | ⑩ 5 |

もんだい 3

- | | |
|-------|-------|
| ① 1 2 | ② 1 0 |
| ③ 0 | ④ 1 4 |
| ⑤ 7 | |

もんだい 4

- | | |
|-----|-----|
| ① 8 | ② 9 |
| ③ 1 | |

もんだい 5

①(しき)

$$5 + 7 - 2 = 10 \quad (5 + 7 - 1 - 1 = 10)$$

(こたえ)

10コ

②(しき)

$$3 + 6 - 7 = 2$$

(こたえ)

2わ

もんだい6

① 77まい


② 23

③ 88


④ 81 → 59 → 46

もんだい7

① 13まい

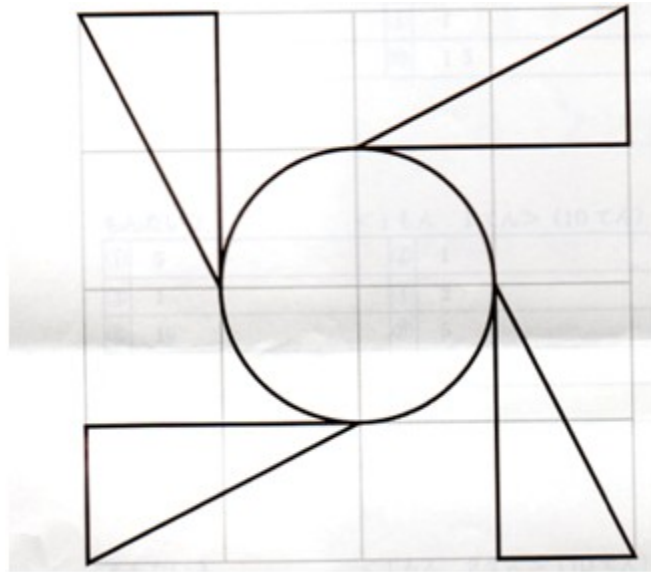


は6まい、



は7まい

もんだい8



もんだい9

○のなかま 3こ

△のなかま 3こ

□のなかま 4こ